

「力学計算塾」

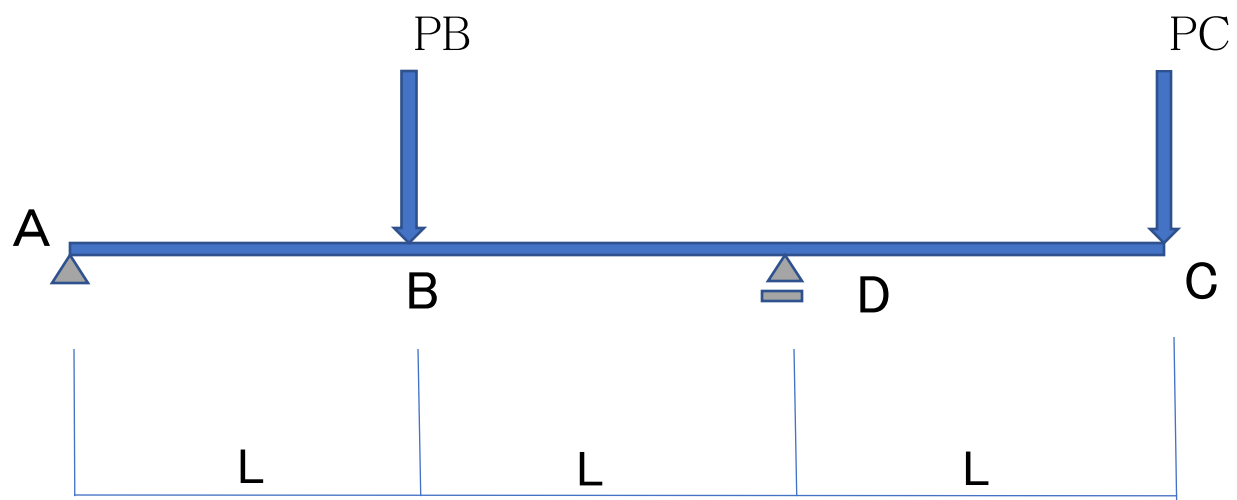
静定架構、静定ラーメン攻略

(全3回)

1. 単純梁の応力の求め方
2. 静定ラーメンの応力の求め方
3. 片持ちラーメン、剛体の浮き上がり、判別式の問題の解き方

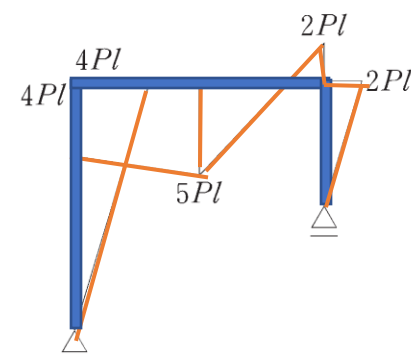
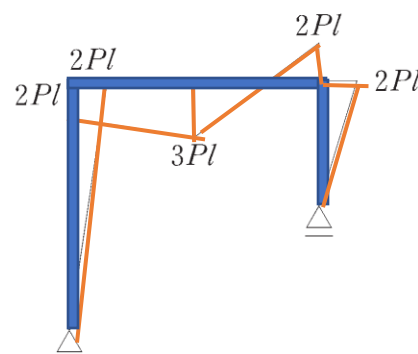
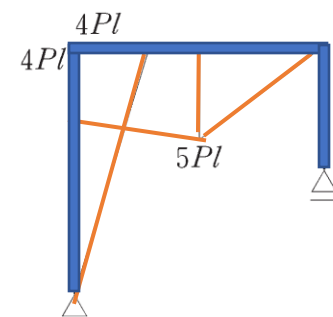
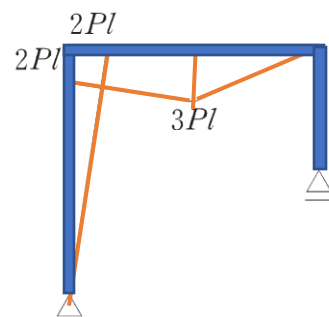
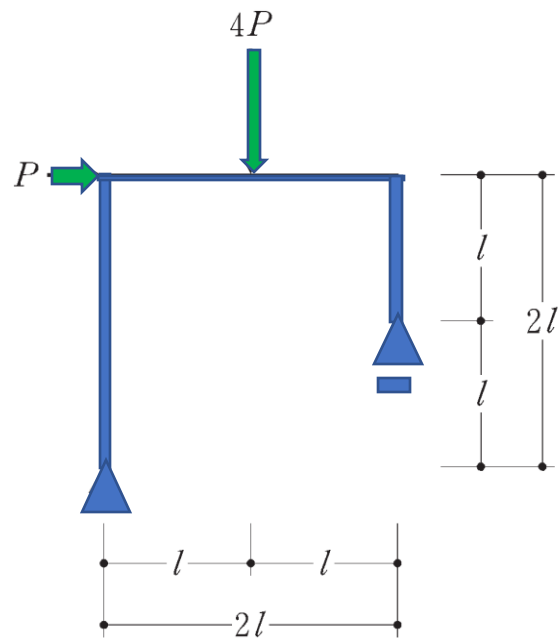
H24-02

支点Aに鉛直反力が生じないようにするためのPBとPCの比をを求める。



H29-No3

正しい曲げモーメント図を選ぶ問題



3.

4.

R03-No3

A点における曲げモーメントが0になるための α の値を求める

