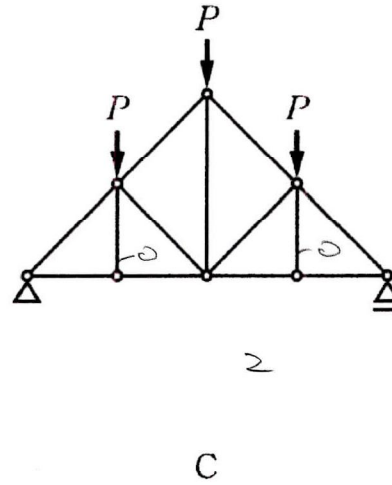
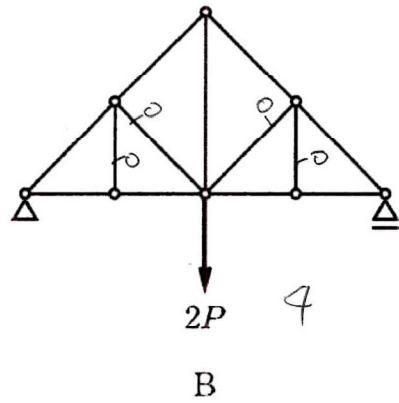
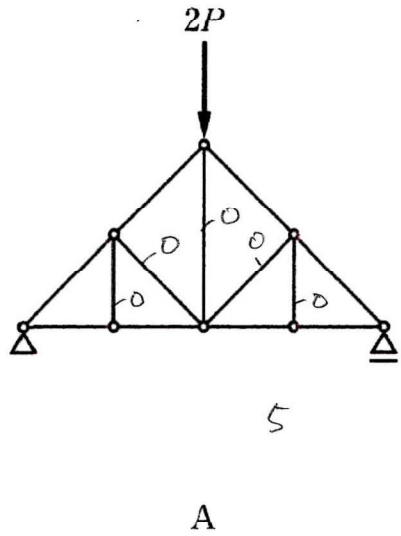


# 令和3年

[No. 4] 図のような、荷重条件が異なる静定トラスA、B、Cにおいて、軸方向力が生じない部材の本数の組合せとして、正しいものは、次のうちどれか。ただし、荷重条件以外の条件は、同一であるものとする。



	A	B	C
1.	3	3	3
2.	4	3	1
3.	4	4	2
④.	5	4	2
5.	5	5	5

軸方向の部材

